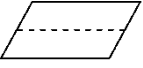


人教版数学一年级下册期末测试卷及答案

一、我会填。(每空 1 分, 共 34 分)

1.  折出了()个相同的()形。
2. 60 角=()元 89 角=()元()角
76 分=()角()分 1 元=()分
3. 96 里面有()个十和()个一, 再加上()个一就是 100。
4. 与 29 相邻的两个数是()和(), 这两个数的和是()。
5. 一个两位数, 个位上是 5, 十位上是 6, 这个两位数是()。
6. 按从小到大的顺序排列下面各数。

37 89 50 2 100 73 41

() < () < () < () < () < () < ()

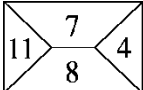
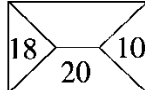
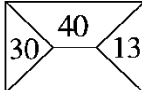
7. 98 比 90 多(), 9 比 16 少()。

8. 一张  能换()张  或()张 。


9. 按规律填一填。

(1)       () () ()

(2) 83 81 79 77 () () ()

(3)    

二、我会辨。(每题 1 分, 共 5 分)

1. 30 和 63 两个数中的 3 表示的意义一样。 ()
2. 至少用 8 个相同的  可以拼成一个大正方形。 ()

3. 小明买了一本 18 元的书，他付了 2 张 9 元的钱。 ()

4. 圆是一条封闭的曲线。 ()

三、我会选。(每题 1 分，共 5 分)

1. 最大的一位数和最小的两位数相差()。

- A. 1 B. 9 C. 90

2. 读数和写数都从()起。

- A. 个位 B. 十位 C. 最高位

3. 一个一个地数，64 后面第 3 个数是()。

- A. 61 B. 66 C. 67

4. 下面最接近 20 的数是()。

- A. 23 B. 18 C. 12

5. 一瓶牛奶卖 4()。

- A. 角 B. 元 C. 分

四、我会算。(1 题 12 分，2 题 6 分，3 题 6 分，共 24 分)

1. 直接写出得数。

$25+4=$ $72-2=$ $14-5-6=$

$68-20=$ $26+7=$ $81-(47-7)=$

$63-5=$ $51-8=$ $40+60-8=$




$24+8=$ $20+43=$ $66-(34+6)=$

2. 把下面的算式按得数从小到大排列。

$56-30$ $9+56$ $88-6$ $30+26$ $47-7$ $45-9$

() < () < () < () < () < ()

3. 下面每组中各算式的得数相同，你能填出括号里面的数吗？

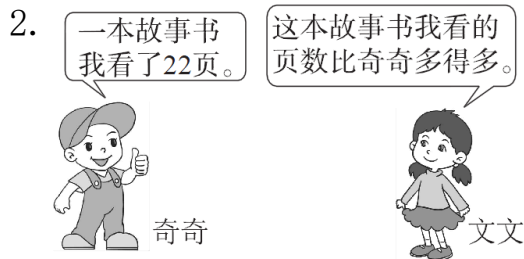


五、在合适的答案下面画“√”。(每题2分，共4分)



咪咪可能钓了多少条鱼？

3	26	32



文文可能看了多少页？

20	25	52

六、解决问题。(1题6分，5题10分，其余每题4分，共28分)




(1) 一个熊猫玩具比一个文具盒贵多少钱？

(2) 买一个热水瓶和一个毽子共多少钱？

(3) 丽丽用 11 元刚好买了哪两样？

2. 一共有 15 人参加了堆雪人活动。



(1) 左边有 7 人，右边有几人？

(2) 男生有 9 人，女生有几人？

3.




分给 22 个小朋友。



每个小朋友分一盒，这些牛奶够吗？

4. 兰兰和红红共扎了 42 朵花，其中有 30 朵是红色的。兰兰扎了 20 朵，红红扎了多少朵？

5. 下面是一(2)班学生最喜欢的小动物的情况。



(1) 根据上图填写下表。

					
	狮子	兔子	小熊	猴子	小象
人数					

(2) 喜欢()的人数最多，喜欢()和()的人数同样多。

(3) 你能提一个数学问题并解答吗？