

公开

作业环境与职业健康组内审核员试题（B卷）

单位：

姓名：


得分：

一、单选（每题2分，共10题，20分）：

1、车行道宽度应大于 3.5m，专供叉车通行的单行道应大于（ ）m。人行安全通道宽度宜大于 0.8m，分隔线应清晰、准确。

- A. 1.5
- B. 1.6
- C. 1.8
- D. 2

2、按照 GB13495 相关规定，消防实施、重要防火部位均应设有明显的消防安全标志，以下不属于消防安全标志的是（ ）



3、危险化学品的使用现场使用现场与高温区、明火产生点的间距应大于（ ），

如有可靠的抽风装置时应大于（ ）。

- A. 50m、6m
- B. 30m、6m
- C. 50m、3m
- D. 30m、3m

4、车间和仓库车行道、人行道上方的悬挂物均应牢固可靠；当人行道上方的移动物体时，均应设置安全防护网。当人行道的边缘至准轨铁路中心线的距离小于（ ）时，或处于危险地段的人行道，均应设置防护栏杆，并有警示标识。

- A. 3.50m
- B. 3.75m
- C. 4.00m
- D. 4.25m

5、某市安全生产监督管理局对该市某企业劳动防护用品的日常管理工作开展了专项安全监督检查，发现该企业劳动防护用品的管理有以下做法，其中错误的是（ ）。

- A. 为职工免费发放安全帽、防护鞋等劳动防护用品
- B. 及时更换失效的劳动防护用品
- C. 定期进行劳动防护用品监督检查
- D. 设专人维修劳动防护用品

6、职业性尘肺病，又称肺尘埃沉着症，是劳动者在职业活动中长期吸入生产性粉尘并在肺内滞留而引起的以肺组织弥漫性纤维化为主的疾病。下列职业病中，不属于职业性尘肺病的是（ ）。

- A. 劳动者甲在煤矿从事采煤作业因接煤尘所罹患的职业病
- B. 劳动者乙在水泥厂从事包装作业因接触水泥粉尘所患的职业病
- C. 劳动者丙在造船厂从事电焊作业因电焊烟尘所患的职业病
- D. 劳动者丁在棉织厂从事棉花作业因接触棉尘所患的职业病

7、多个安全标志牌一起设置时，应按（ ）类型的顺序，先左后右，先上后下地排列。

- A、禁止、警告、指令、提示
- B、警告、禁止、指令、提示
- C、指令、警告、禁止、提示
- D、提示、警告、禁止、指令

8、企业应根据其职业性危害因素的污染情况，在醒目位置设置公告栏，公布有关职业危害防治的规章制度、操作规程、事故应急处理措施和（ ）。

- A、接触职业危害因素的人数及分布情况
- B、工作场所职业病危害因素种类清单
- C、职业性危害因素监测结果
- D、职业健康检查结果

9、生产经营单位必须为从业者提供符合国家标准或行业标准的劳动防护用品，劳动防护用品的选用应遵循一定的原则，下列选用原则中错误的是（ ）

- A. 穿戴舒适方便不影响工作
- B. 劳动强度以及生产岗位性质
- C. 劳动防护用品网站上的排名，
- D. 劳动防护用品的防护性能

10、机械制造工业生产中，加热金属等可成为红外线辐射源。铸造工、锻造工、焊接工等工种可接触到红外线辐射。长期接的红外线辐射可引起的职业病是（ ）。

- A. 皮肤癌
- B. 白内障
- C. 慢性外解射放射病
- D. 电光性眼炎

二、多选题（每题 2 分，共 10 题，20 分）

1. 以下符合厂区布局要求的有（ ）

- A 电镀车间布置在厂区主风向的下方向
- B 吹砂厂房外围进行了绿化
- C 厂区布局应实行定置管理
- D 厂区设置了一个大门

2. 以下关于厂区道路描述正确的有（ ）

- A 人流物流通道可共用一个通道
- B 主干道为环形，单向道在尽头应设置回车场
- C 车间出入口应设有限速标牌和警示标牌
- D 厂区主干道无占道物品

3. 铁路与道路平交道口，应设置（ ）

- A 警示灯
- B 警示标志
- C 路段标线或安全防护设施
- D 摄像头

4. 以下哪些建筑物至少有两个安全疏散门 ()

- A 甲类厂房
- B 乙类厂房
- C 丙类厂房
- D 丁类厂房

5. 以下场所灭火器配置符合根据 GB 50140 要求的有 ()

- A 油库配备了水型灭火器
- B 木材库配备了水型灭火器
- C 化学品库配备了干粉灭火器
- D 变电站配备了干粉灭火器

6. 以下哪些场所应设置应急洗眼装置 ()

- A 电镀车间
- B 热处理车间
- C 调漆间
- D 焊接车间

7. 以下车间应设置浴室的有 ()

- A 含氰电镀车间
- B 机械加工车间
- C 铸造车间
- D 装配车间

8. 根据《职业病危害项目申报办法》，生产单位发生以下那些情况需申报变更职业病危害项目内容（ ）

A 进行新建、改建、扩建、技术改造或者技术引进建设项目的

B 因技术、工艺、设备或者材料等发生变化导致原申报的职业病危害因素及其相关内容发生重大变化的

C 用人单位工作场所、名称、法定代表人或者主要负责人发生变化的

D 经过职业病危害因素检测、评价，发现原申报内容发生变化的

9. 以下应纳入劳动者职业健康监护档案有（ ）

A 劳动者的基本情况，职业史、既往病史和职业病危害接触史

B 历次职业健康检查结果及处理情况

C 职业病诊疗资料

D 历年作业场所职业病危害因素检测结果

10. 职业卫生公告栏应当包括以下哪些内容（ ）

A 职业危害防治的规章制度

B 职业危害防治作规程

C 职业病事故应急处理措施

D 职业性危害因素监测结果

三、填空（每题 2 分，共 10 题，20 分）：

1、厂区大门不宜少于 _____ 个，主要人流入口与主要物流入口应分开设置。

2、 厂区大门、车间出入口及危险路段应设有 _____ 和 _____ ，交通视线盲区应设置 _____ 。

3、 厂区照明布局合理，厂区主干道和安全通道的照度均不低于 30 (lx)。且照明灯具完好、有效。

4、 室内仓库应根据作业特点和储存物品的特性，实现分区、分类储存，储存物品的堆放牢固、合理，便于移动，无超高堆垛；储存物品堆垛之间，以及堆垛与墙、梁、柱之间均留有 _____ m 的安全距离。

5、辐射装置、工业探伤等使用强辐射源的工作场所均设置_____和_____装置，且完好、可靠。

6、危险化学品的使用现场应有良好的自然通风，狭窄作业场所应设置机械通风；使用现场危险化学品的存放量不应超过_____。使用场所的设备、工艺管道应设置导除静电的_____。

7、车间员工休息室、会议室等聚集场所应与作业区域_____，疏散通道保持畅通。

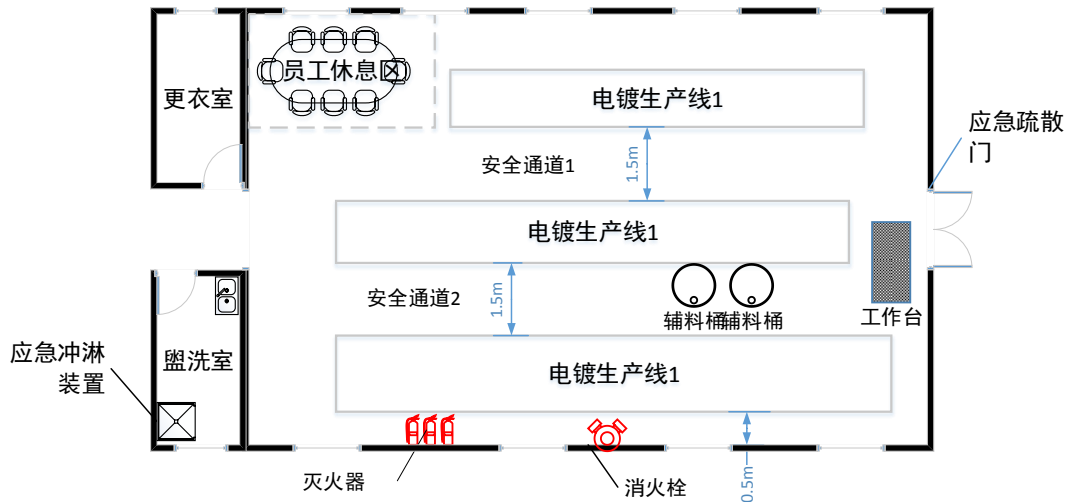
8、各建筑物实际耐火等级、限制层数和最大允许面积均与其_____和_____相适宜，且有明显标识。

9、甲、乙、丙类厂房和仓库的安全疏散门不应少于_____个，并有明显的安全标识。

10、企业应对从事接触职业病危害的作业的劳动者组织_____、_____和_____的职业健康检查，并将检查结果书面告知劳动者。

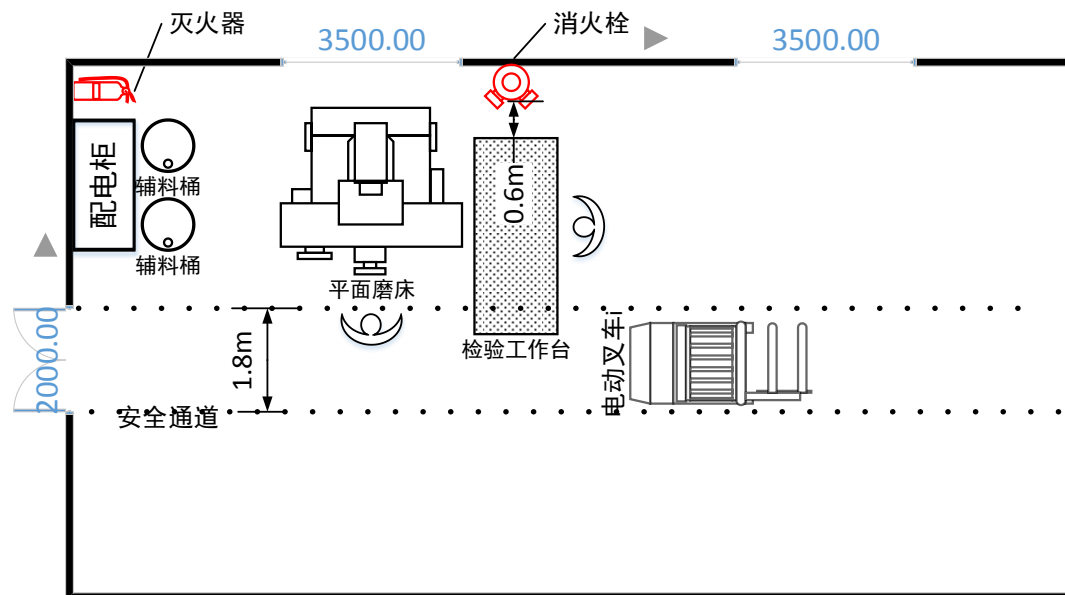
四、审核场景，论述题（每题 20 分，共 2 题，40 分）：

论述题 1



接受审核的某单位电镀厂房局部工作场所示意图如上。请明确指出该工作场所存在的不符合项。

论述题 2



接受审核的某单位机械加工厂房局部工作场所示意图如上。请明确指出该工作场所存在的不符合项。

作业环境与职业健康组内审核员试题（B卷）答案

一、单选答案（每题2分，共10题，20分）：

1、D；2、C；3、B；4、B；5、D；6、D；7、B；8、C；9、C；
10、B。

二、多选答案（每题2分，共10题，20分）：

1、ABC；2、BCD；3、ABC；4、ABC；5、BCD；6、AC；7、
AC；8、ABCD；9、ABC；10、ABCD。

三、填空答案（每题2分，共10题，20分）

1、两；2、限速标牌 警示标牌 反光镜；3、30；4、0.75；
5、安全联锁 超剂量报警；当班使用量、接地装置；
7、隔离；8、使用特点 火灾危险性；9、两；
10、上岗前、在岗期间、离岗时。

四、审核场景，论述题答案（每题20分，共2题，40分）

（一）答案：

- 1 员工休息区未与电镀作业区隔离，不符合 4.3.3.1.3 条款。
- 2 安全通道 2 存放辅料桶，占用通道，不符合 4.3.3.2.5 条款。
- 3 室内消火栓和灭火器与电镀槽距离小于 1 米，且位置不易观察和及时获取。不符合 4.3.3.7.2 条款。
- 4 应急冲淋装置所在位置未在实际可能发生急性危害的工作场所，且难以及时有效使用，不符合 4.3.3.7.4 条款。
- 5 工作台遮挡应急疏散门，不符合 4.3.3.1.3 条款。

(二) 答案:

- 1 电动叉车通道小于 2 米, 不符合 4.3.3.2.1 条款。
- 2 平面磨床操作区和检验工作台占用通道, 不符合 4.3.3.4 条款。
- 3 室内消火栓和灭火器摆放位置不合理, 难以观察和使用, 室内消火栓与检验工作台距离小于 1 米, 不符合 4.3.3.7.2 条款。
- 4 两个辅料桶放在配电柜门前, 影响正常操作和应急响应, 不符合 4.3.3.3 条款。
- 5 检验工作台及操作人员处于磨床危险区域, 不符合 4.3.3.3.1 条款。